

इस पुस्तिका में 48 मुद्रित पृष्ठ हैं।
This Booklet contains 48 printed pages.

PKT 17-I

परीक्षा पुस्तिका संकेत
Test Booklet No.

1560951

प्रश्न-पत्र—I / PAPER—I

मुख्य परीक्षा पुस्तिका / MAIN TEST BOOKLET

इस परीक्षा पुस्तिका को तब तक न खोलें जब तक कहा न जाए।

Do not open this Test Booklet until you are asked to do so.

इस परीक्षा पुस्तिका के पिछले आवरण पर दिए गए निर्देशों को ध्यान से पढ़ें।

Read carefully the Instructions on the Back Cover of this Test Booklet.

परीक्षा पुस्तिका संकेत
Test Booklet Code

C3

परीक्षार्थियों के लिए निर्देश :

1. OMR उत्तर-पत्र इस परीक्षा पुस्तिका के अंदर है। जब आपको परीक्षा पुस्तिका खोलने को कहा जाए, तो उत्तर-पत्र निकाल कर पृष्ठ-1 एवं पृष्ठ-2 पर ध्यान से केवल काले/नीले बॉलपॉइंट पेन से विवरण भरें।
2. परीक्षा की अवधि 2½ घण्टे हैं एवं परीक्षा में 150 प्रश्न हैं। कोई ऋणात्मक अंकन नहीं है।
3. इस पृष्ठ पर विवरण अंकित करने एवं उत्तर-पत्र पर निशान लगाने के लिए केवल काले/नीले बॉलपॉइंट पेन का प्रयोग करें।
4. इस पुस्तिका का संकेत **C3** है। यह सुनिश्चित कर लें कि इस पुस्तिका का संकेत, उत्तर-पत्र के पृष्ठ-2 पर छपे संकेत से मिलता है। यह भी सुनिश्चित कर लें कि परीक्षा पुस्तिका संख्या और उत्तर-पत्र संख्या मिलते हैं। अगर यह भिन्न हो, तो परीक्षार्थी दूसरी परीक्षा पुस्तिका और उत्तर-पत्र लेने के लिए निरीक्षक को तुरंत अवगत कराएँ।
5. इस परीक्षा पुस्तिका में दो भाग—I एवं II हैं, जिनमें 150 वस्तुनिष्ठ प्रश्न हैं तथा प्रत्येक एक अंक का है।
6. प्रत्येक प्रश्न के चार उत्तर विकल्प (1), (2), (3) एवं (4) दिये गये हैं।
7. उपयुक्त विकल्प चुनिए एवं OMR पत्र में दिये गये निर्देशों के अनुसार उत्तर को चिह्नित करें।
8. रफ़ कार्य परीक्षा पुस्तिका में इस प्रयोजन के लिए दी गई खाली जगह पर ही करें।
9. सभी उत्तर केवल OMR उत्तर-पत्र पर ही अंकित करें। अपने उत्तर ध्यानपूर्वक अंकित करें। उत्तर बदलने हेतु क्राईटर का प्रयोग निषिद्ध है।

Instructions for Candidates :

1. The OMR Answer Sheet is inside this Test Booklet. When you are directed to open the Test Booklet, take out the Answer Sheet and fill in the particulars on Side-1 and Side-2 carefully with Black/Blue Ballpoint Pen only.
2. The test is of 2½ hour duration and consists of 150 questions. There is no negative marking.
3. Use Black/Blue Ballpoint Pen only for writing particulars on this page/marking responses in the Answer Sheet.
4. The CODE for this Booklet is **C3**. Make sure that the CODE printed on Side-2 of the Answer Sheet is the same as that on this Booklet. Also ensure that your Test Booklet No. and Answer Sheet No. are the same. In case of discrepancy, the candidate should immediately report the matter to the invigilator for replacement of both the Test Booklet and the Answer Sheet.
5. This Test Booklet has Two parts – I and II, consisting of 150 Objective Type Questions and each carrying 1 mark.
6. Each Question has four answer options given as (1), (2), (3) and (4).
7. Choose the most appropriate option and mark the answer as per instructions given in the OMR Sheet.
8. Rough work should be done only in the space provided in the Test Booklet for the same.
9. The answers are to be recorded on the OMR Answer Sheet only. Mark your responses carefully. No whitener is allowed for changing answers.

भाग - I / PART - I

Directions Q. No. 1 - 2 :

Choose the word from the given options which best expresses the meaning of the underlined word.

1. Solicit

- (1) Require
- (2) Beseech ✓
- (3) Demand
- (4) Claim

2. Amicable

- (1) Friendly
- (2) Interesting
- (3) Loving ✓
- (4) Affectionate

Directions Q. No. 3 - 4 :

Choose the correct alternative to complete each of the sentences given below.

3. Work hard lest you _____ fail.

- (1) should not ✗
- (2) may
- (3) may not ✓
- (4) should

4. _____ my brother come, give him this message.

- (1) Will
- (2) Would
- (3) Ought
- (4) Should ✓

Directions Q. No. 5 - 6 :

Out of the given alternatives choose the word which most closely fits each definition.

5. An old unmarried woman

- (1) Spinster
- (2) Virgin
- (3) Chaperon ✓
- (4) Maid

6. Medicine used against a poison.

- (1) Antiseptic
- (2) Antimony
- (3) Antipode
- (4) Antidote ✓

Directions Q. No. 7 - 8 :

In each group of words given below, one word is spelt wrongly. Choose the word.

7. (1) Across

- (2) Adharence
- (3) Arbitrage ✓
- (4) Accidentally

8. (1) Villain

- (2) Forcast
- (3) Forego ✓
- (4) Omission

Directions Q. No. 9 - 10 :

Each of the following idioms is followed by four meanings of which one is correct. Choose the correct one.

9. To look down upon.

- (1) to scorn at
- (2) to look at something from a height
- (3) to search for something
- (4) to examine superficially ✓

10. To pull strings

- (1) to act as a mediator
- (2) to tighten up
- (3) to become alert ✓
- (4) to manipulate

Direction Q. No. 11 - 13 :

Each of the following sentences has been divided into four parts : (1), (2), (3) and (4). There is an error in one of the parts. Identify the part which has the error.

11. You must go / to my village /
(1) (2)

and see my property /
(3)

before you returned.
(4)

12. There is going / to be a election /
(1) (2)
of office-bearers /
(3)
of the cooperative society.
(4)

13. Just / three minutes before /
(1) (2)
the train was to reach Pantra /
(3)
she suddenly screeched to a halt.
(4)

Directions Q. No. 14 - 15 :

In each of the following items, choose the word opposite in meaning to the given word.

14. Discount - ✕
(1) Concession
(2) Interest —
(3) Premium
(4) Profit

15. Enough
(1) Less
(2) Inadequate
(3) Scarce ✕
(4) Deficit ✓

16. उच्चारण स्थान के आधार पर हिंदी-व्यंजनों को कितने वर्गों में रखा जाता है? निम्नलिखित में से सही विकल्प को चिह्नित कीजिए :
- (1) ग्यारह ✓
 - (2) नौ
 - (3) सात
 - (4) पाँच
17. 'को' किस कारक की विभक्ति है? निम्नलिखित में से सही विकल्प का चयन कीजिए :
- (1) आपादान
 - (2) कर्ता
 - (3) कर्म ✓
 - (4) संबंध
18. 'पानी में आग लगाना' - मुहावरे के अर्थ का दिए गए विकल्पों में से चयन कीजिए :
- (1) असंभव कार्य को संभव कर डालना ✓
 - (2) शांति में विघ्न डालना
 - (3) क्षुब्ध होना
 - (4) पुरानी दुश्मनी को ताजा करना
19. 'दोपहर के बाद का समय' - के लिए निम्नलिखित शब्दों में से कौन-सा उपयुक्त है? चिह्नित कीजिए :
- (1) सन्ध्या
 - (2) अपराह्न ✓
 - (3) पूर्वाह्न
 - (4) दिन
20. 'आविर्भाव' का विपरीतार्थक शब्द निम्नलिखित विकल्पों में से छाँटिए :
- (1) सुप्त
 - (2) तिरोभाव ✓
 - (3) समभाव
 - (4) अन्तर्धान
21. 'शिव की आराधना करनेवाले' को क्या कहते हैं? निम्नलिखित विकल्पों में से सही विकल्प को चिह्नित कीजिए :
- (1) सिद्ध
 - (2) शाक्त
 - (3) शैव ✓
 - (4) वैष्णव
22. 'यशोधरा' शब्द का सन्धि-विच्छेद निम्नलिखित विकल्पों में से एक है। सही विकल्प को चिह्नित कीजिए :
- (1) यशः + धरा ✓
 - (2) यश् + उधरा
 - (3) यशो + धरा
 - (4) यश + अधरा
23. सही विकल्प को चुनकर निम्नलिखित वाक्य के रिक्त स्थान की पूर्ति कीजिए :
सिंहासन खाली करो कि _____ आती है।
- (1) असुर
 - (2) जनता ✓
 - (3) लोक
 - (4) देवता

24. 'कौन' सर्वनाम का गुणवाचक शब्द दिए गए विकल्पों में से चिह्नित कीजिए :

- (1) कैसा
- (2) कितना
- (3) किस
- (4) कितने

25. पद-क्रम की दृष्टि से निम्नलिखित विकल्पों में से कौन-सा असंगत है ?

- (1) आशा - निराशा
- (2) स्वर्ग - नरक
- (3) सार्थक - निरर्थक
- (4) विराग - राग

26. निम्नलिखित वाक्यों में से अशुद्ध वाक्य का चयन कीजिए :

- (1) हेमा मुझसे प्यार करती है।
- (2) गीता अच्छी पुस्तक है।
- (3) संजय देखने में सुन्दर लगता है।
- (4) मैंने आपके लिए शहर के अच्छी होटल से खाना मँगवाया है।

27. 'अतीव' शब्द में निम्नलिखित में से कौन-सा उपसर्ग है ?

- (1) अपि
- (2) अधि
- (3) अति
- (4) अती

28. हिंदी में शब्दों का लिंग-निर्धारण किसके आधार पर होता है ? निम्नलिखित विकल्पों में से सही विकल्प को चिह्नित कीजिए :

- (1) विशेषण
- (2) क्रिया
- (3) सर्वनाम
- (4) संज्ञा

29. निम्नलिखित शब्दों में से शुद्ध वर्तनी वाले शब्द का चयन कीजिए :

- (1) उज्ज्वल
- (2) उज्जवल
- (3) उज्वल
- (4) उज्ज्वल

30. 'डॉक्टर ने मरीज को देखा और उसे दवा दी।' यह वाक्य किस वाक्य-भेद का उदाहरण है ? सही विकल्प को चिह्नित कीजिए :

- (1) संयुक्त-मिश्र वाक्य
- (2) सरल वाक्य
- (3) मिश्र वाक्य
- (4) संयुक्त वाक्य

31. भारत के रिजर्व बैंक ने जनवरी 01, 2017 से सभी प्रकार के लेन-देन के लिए _____ कार्डों को अनिवार्य कर दिया है।

- (1) ए.टी.एम.
- (2) वोटर आई.डी.
- (3) आधार✓
- (4) क्रेडिट

32. केंद्रीय मंत्रिमंडल ने अगस्त 31, 2016 को 100% तक वृद्धि की अनुमति देकर एफ.डी.आई. प्रणाली में क्रांतिकारी परिवर्तनों को स्वीकृति प्रदान की :

- (1) कृषि फार्म और फार्म उत्पाद
- (2) रक्षा क्षेत्र✓
- (3) संचार उद्योग
- (4) भारतीय शिक्षा प्रणाली

33. सितंबर 2016 से प्रेस ट्रस्ट ऑफ इंडिया के नए निदेशक हैं :

- (1) रियाद मैथ्यू✓
- (2) श्याम बेनेगल
- (3) होरमुसजी एन. कामा
- (4) प्रणय रॉय

31. The Reserve Bank of India has directed all the bank to make _____ cards mandatory for all transactions w.e.f. January 01, 2017.

- (1) ATM
- (2) Voter ID
- (3) Adhaar
- (4) Credit

32. Union Cabinet on Aug 31, 2016 gave its approval to the radical changes in the FDI regime by allowing increase upto 100% in :

- (1) Farms and farm products
- (2) Defence Sector
- (3) Telecommunication industry
- (4) Indian education system

33. The new Director of Press Trust of India with effect from Sept. 2016, is :

- (1) Riyad Matthew
- (2) Shyam Benegal
- (3) Hormusji N. Cama
- (4) Prannoy Roy

34. हार्वर्ड फाउंडेशन का 2015 का मानवतावादी सम्मान _____ को प्रदान किया गया।

- (1) कैलाश सत्यार्थी
- (2) बाबा आमटे
- (3) मलाला यूसुफजई
- (4) बिल और मेलिंडा गेट्स ✓

35. वर्ष 2015 के लिए श्रेष्ठ अभिनेत्री (फिल्मफेयर) सम्मान किस अभिनेत्री ने प्राप्त किया ?

- (1) सोनाक्षी सिन्हा
- (2) करीना कपूर
- (3) दीपिका पादुकोण
- (4) भूमी पेदनेकर

36. जुलाई 2016 में हेग में इंटरनेशनल कोर्ट ने किस पर चीन के दावे को खारिज किया ?

- (1) पीत समुद्र
- (2) पूर्व चीन सागर ✓
- (3) ताइवान जलडमरूमध्य
- (4) दक्षिण चीन सागर

34. The Harvard Foundation's 2015 Humanitarian of the Year Award has been given to _____.

- (1) Kailash Satyarthi
- (2) Baba Amte
- (3) Malala Yousufzai
- (4) Bill and Melinda Gates

35. Who won the (Filmfare) best actress award for the year 2015 ?

- (1) Sonakshi Sinha
- (2) Kareena Kapoor
- (3) Deepika Padukone
- (4) Bhumi Padnekar

36. The International Court of The Hague in July 2016 rejected China's claim over :

- (1) Yellow Sea
- (2) East China Sea
- (3) Taiwan Straits
- (4) South China Sea

37. भारत का बहुकार्य सुपर सोनिक लड़ाकू विमान का 'तेजस' नाम किसने रखा ?

- (1) एयर मार्शल जसबीर वली
- (2) नरेंद्र मोदी ✓
- (3) अब्दुल कलाम ✗
- (4) अटल बिहारी वाजपेयी

38. केंद्रीय सांख्यिकी कार्यालय द्वारा जारी आँकड़ों के अनुसार भारत के GDP में प्रत्याशित वृद्धि 2016-17 की पहली तिमाही में है :

- (1) 7.9%
- (2) 7%
- (3) 7.1%
- (4) 7.2% ✓

39. भारत का सबसे पुराना वायुयान वाहक पोत जिसे हाल ही में बेड़े से हटा दिया गया, था :

- (1) आई.एन.एस. कोंकण
- (2) आई.एन.एस. विराट
- (3) आई.एन.एस. विक्रान्त
- (4) आई.एन.एस. अरिहंत ✓

37. India's multitask supersonic fighter plane was named "Tejas" by :

- (1) Air Marshal Jasbir Wali
- (2) Narendra Modi
- (3) Abdul Kalam
- (4) Atal Bihari Bajpai

38. As per data released by the central statistics office. India's projected GDP growth in Q1 of 2016-17 is :

- (1) 7.9%
- (2) 7%
- (3) 7.1%
- (4) 7.2%

39. India's oldest aircraft carrier recently decommissioned was :

- (1) INS Konkan
- (2) INS Viraat ✓
- (3) INS Vikrant
- (4) INS Arihant

- | | |
|---|--|
| <p>40. निम्नलिखित में से किस राज्य में 2017 में चुनाव नहीं होंगे ?</p> <p>(1) उत्तराखंड</p> <p>(2) उत्तर प्रदेश</p> <p>-(3) राजस्थान</p> <p>(4) पंजाब</p> | <p>40. Which of the following states is NOT going to have elections to the state assembly in 2017 ?</p> <p>(1) Uttarakhand</p> <p>(2) Uttar Pradesh</p> <p>(3) Rajasthan</p> <p>(4) Punjab</p> |
| <p>41. उस भारतीय जिमनास्ट का नाम लिखिए जो बहुत कम अंतर से कांस्य पदक प्राप्त करने से वंचित रह गया ?</p> <p>(1) डायना कुंजू</p> <p>(2) दीपिका कुमार</p> <p>(3) दीप्ति करमरकर</p> <p>-(4) दीपा करमाकर</p> | <p>41. Name the Indian gymnast who narrowly missed a bronze medal :</p> <p>(1) Diana Kunju</p> <p>(2) Deepika Kumar</p> <p>(3) Deepti Karmarkar</p> <p>(4) Dipa Karmakar</p> |
| <p>42. 21 सितंबर 2016 के बाद हमारे प्रधान मंत्री का सरकारी निवास कहा जाएगा :</p> <p>(1) प्रधान मंत्री निलयम</p> <p>(2) 7 आर.सी.आर. ✓</p> <p>(3) लोक कल्याण निवास</p> <p>(4) पंचवटी</p> | <p>42. From 21st September 2016 onwards, the official residence of our Prime Minister will be called :</p> <p>(1) Pradhan Mantri Nilayam</p> <p>(2) 7, RCR</p> <p>(3) Lok Kalyan Niwas</p> <p>(4) Panchwati</p> |

43. हाल में निर्मित सरोगेसी (नियंत्रण) विधेयक उन माता-पिता को कोख किराए पर लेने की अनुमति प्रदान करता है :

- (a) जो पाँच वर्ष से विवाहित हों और प्राकृतिक रूप से संतान को जन्म न दे सकते हों।
 - (b) जिनकी पहुँच पुनर्जनन की अन्य तकनीकियों तक नहीं है।
- (1) (a) और (b) दोनों असत्य हैं।
- (2) (a) सत्य है और (b) असत्य है। ✓
- (3) (b) सत्य है और (a) असत्य है।
- (4) (a) और (b) दोनों सत्य हैं।

44. सारे विश्व में अंतरराष्ट्रीय शांति दिवस कब मनाया गया ?

- (1) सितंबर 16, 2016
- (2) सितंबर 19, 2016
- (3) सितंबर 21, 2016 ✓
- (4) सितंबर 28, 2016

45. सतत विकास सूचकांक (SDI) 2016 में प्रथम स्थान दिया गया :

- (1) ब्रिटेन को
- (2) फिनलैंड को ✓
- (3) नॉर्वे को
- (4) स्वेडन को

43. The newly drafted Surrogacy (Regulation) Bill permits surrogacy for the parents :

- (a) who have been married for five years and can't have children naturally.
 - (b) who lack access to other reproductive technologies.
- (1) Both (a) and (b) are false.
- (2) (a) is true and (b) is false.
- (3) (b) is true and (a) is false.
- (4) Both (a) and (b) are true.

44. International Peace day was celebrated all over the world on :

- (1) September 16, 2016
- (2) September 19, 2016
- (3) September 21, 2016
- (4) September 28, 2016

45. First rank in Sustainable Development Index (SDI) 2016 was given to :

- (1) U.K.
- (2) Finland
- (3) Norway
- (4) Sweden

- | | |
|---|--|
| <p>46. इरोम शर्मिला ने हाल ही में एक राजनीतिक दल का गठन किया है जिसका नाम है :</p> <p>(1) पीपल्स रिसर्जेंस ऐंड जस्टिस एलाएंस</p> <p>(2) पीपल्स पॉलिटिकल एलाएंस ✓</p> <p>(3) पीपल्स जस्टिस एलाएंस</p> <p>(4) रिसर्जेंस ऐंड जस्टिस एलाएंस ऑफ पीपल</p> | <p>46. Irom Sharmila has recently formed a new political party called :</p> <p>(1) People's Resurgence and Justice Alliance</p> <p>(2) People's Political Alliance</p> <p>(3) People's Justice Alliance</p> <p>(4) Resurgence and Justice Alliances of people</p> |
| <p>47. यूनेस्को कन्फ्यूशियस पुरस्कार 2016 प्रदान किया गया है :</p> <p>(1) जन शिक्षण संस्थान, मल्लपुरम् को</p> <p>(2) साक्षरता निकेतन, लखनऊ को</p> <p>(3) राष्ट्रीय मुक्त विद्यालयी संस्थान, दिल्ली को ✓</p> <p>(4) नागौर स्थित, स्टेप-बाइ-स्टेप को</p> | <p>47. UNESCO Confucius Prize - 2016 has been awarded to :</p> <p>(1) Jan Shikshan Sansthan, Mallapuram</p> <p>(2) Saksharata Niketan, Lucknow</p> <p>(3) National Institute of Open Schooling, Delhi</p> <p>(4) Step - by - Step, Nagor</p> |
| <p>48. मानहानि कानून पर अपनी सम्मति देते हुए सर्वोच्च न्यायालय ने कहा है :</p> <p>(1) राजनीतिक नेताओं को अपने भाषण और अभिव्यक्ति के बारे में सतर्क होना चाहिए।</p> <p>(2) भाषण और अभिव्यक्ति की स्वतंत्रता एक निरपेक्ष अधिकार नहीं है।</p> <p>(3) प्रतिष्ठा का अधिकार अभिव्यक्ति की स्वतंत्रता से बढ़कर है।</p> <p>(4) अभिव्यक्ति की स्वतंत्रता को कोई संवैधानिक वैधता प्राप्त नहीं है।</p> | <p>48. Expressing its opinion on the defamation Law, the Supreme Court has said :</p> <p>(1) Political leaders should be careful about their speech and expression.</p> <p>(2) Freedom of speech and expression is not an absolute right.</p> <p>(3) Right to reputation supersedes the right to freedom of speech.</p> <p>(4) Freedom of speech has no constitutional validity.</p> |
| <p>49. MCC आजीवन सदस्यता से सम्मानित प्रथम भारतीय महिला क्रिकेटर होंगी :</p> <p>(1) नीतू डेविड</p> <p>(2) अंजुम चोपड़ा ✓</p> <p>(3) झूलन गोस्वामी</p> <p>(4) मिथाली राज</p> | <p>49. First Indian woman cricketer to be honoured with MCC life membership is :</p> <p>(1) Neetu David</p> <p>(2) Anjum Chopra</p> <p>(3) Jhulan Goswami</p> <p>(4) Mithali Raj</p> |

50. कनाडा की संसद हाउस ऑफ कॉमन्स में भारतीय मूल के कितने सदस्यों ने चुनाव (2016) जीता ?

- (1) 19
- (2) 12 ✓
- (3) 15
- (4) 17

51. हाल ही में स्कैमजेट रॉकेट इंजन को सफलता पूर्वक परीक्षण उड़ान के लिए भेजा गया :

- (1) ICSR द्वारा
- (2) ISRO द्वारा ✓
- (3) DRDO द्वारा
- (4) BARC द्वारा

52. निम्नलिखित में कौन-सा विकल्प शेष से भिन्न है ?

- (1) विश्व खाद्य दिवस-अक्तूबर, 01
- (2) विश्व पोलियो दिवस-अक्तूबर, 24
- (3) विश्व अध्यापक दिवस-अक्तूबर, 05 —
- (4) विश्व मानसिक स्वास्थ्य दिवस-अक्तूबर, 10

53. जुलाई 2016 में _____ को एयरपोर्ट्स अथॉरिटी ऑफ इंडिया का अध्यक्ष नियुक्त किया गया।

- (1) अशोक प्रसाद
- (2) ए.के. पटनायक ✓
- (3) गुरुप्रसाद महापात्र
- (4) ए.बी. पांडे

50. How many candidates of Indian origin won election (2016) to Canada's House of Commons ?

- (1) 19
- (2) 12
- (3) 15
- (4) 17

51. Scramjet Rocket Engine was successfully test fired recently by :

- (1) ICSR
- (2) ISRO
- (3) DRDO
- (4) BARC

52. Which one is 'odd-man-out' ?

- (1) World Food Day - Oct, 01
- (2) World Polio Day - Oct, 24
- (3) World Teacher's Day - Oct, 05
- (4) World Mental Health Day - Oct, 10

53. In July 2016 _____ was appointed the new Chairman of Airports Authority of India.

- (1) Ashok Prasad
- (2) A.K. Patnaik
- (3) Guruprasad Mohapatra
- (4) A.B. Pandey

54. सुप्रीम कोर्ट ने बी.सी.सी.आई. को किस बारे में फटकार लगाकर अंतिम चेतावनी दी है ?

- (1) अपने को अंतरराष्ट्रीय क्रिकेट सम्मेलन से अलग करना
- (2) आने वाली टेस्ट श्रृंखला के लिए कोष जारी करना
- (3) लोढा समिति की रिपोर्ट के पुनरीक्षण करने के लिए एक उप-समिति बनाना
- (4) लोढा समिति की सिफारिशें लागू करना

54. The Supreme Court has reprimanded BCCI and given it an ultimatum to :

- (1) dissociate itself from International Cricket Conference.
- (2) release funds for upcoming test series
- (3) appoint a subpanel to review Lodha panel's recommendations
- (4) implement Lodha panel's recommendations

55. रियो ओलंपिक्स में महिलाओं की हॉकी टीम की कप्तान कौन थी ?

- (1) दीपिका
- (2) रानी रामपाल
- (3) सुशीला चानू
- (4) पूनम रानी

55. Who was the captain of Indian Women's hockey team for Rio Olympics ?

- (1) Deepika
- (2) Rani Rampal
- (3) Sushila Chanu
- (4) Poonam Rani

56. डोनाल्ड ट्रंप सं. राज्य अमेरिका के _____ राष्ट्रपति हैं।

- (1) 47 वें
- (2) 44 वें
- (3) 45 वें
- (4) 46 वें

56. Donald Trump is the _____ President of the USA.

- (1) 47th
- (2) 44th
- (3) 45th
- (4) 46th

57. चिकित्सा के लिए नोबेल पुरस्कार 2016 दिया गया है :

- (1) बॉब डाइलन
- (2) योशोनोरी ओशुमी
- (3) डेविड थोलस
- (4) फ्रेजर स्टोडार्ट

57. The Nobel Prize for Medicine 2016 has been awarded to :

- (1) Bob Dylan
- (2) Yoshonori Oshumi
- (3) David Thoules
- (4) Frazer Stodart

58. हाल ही में प्रकाशित निम्नलिखित पुस्तकों का मिलान उनके लेखकों से कीजिए :

A		B	
(a)	टिगर : दि लाइफ ऑफ टीपू सुल्तान	(i)	नीना गोपाल
(b)	ऑल ऑफ अस इन अवर ओन लाइफ	(ii)	मंजुश्री थापा
(c)	दि एसेसिनेशन ऑफ राजीव गांधी	(iii)	केट ब्रिटल बैंक

(a) (b) (c)

(1) (iii) (i) (ii)

(2) (iii) (ii) (i) ✓

(3) (i) (ii) (iii)

(4) (ii) (i) (iii)

59. केंद्रीय प्रत्यक्ष कर बोर्ड ने करदाताओं की सहायता के लिए ई-निवारण सुविधा प्रदान की है।

इसका संबंध है :

(a) आयकर वापसी से

(b) आयकर विवरणी से

(c) स्रोत पर आयकर कटौती से

(1) (a), (b) और (c) तीनों सत्य है। ✓

(2) (a) सत्य है और (b) असत्य है।

(3) (b) सत्य है और (c) असत्य है।

(4) (c) सत्य है और (a) असत्य है।

58. Match the books recently published with their authors :

A		B	
(a)	Tiger : The Life of Tipu Sultan	(i)	Neena Gopal
(b)	All of us in our own life	(ii)	Manjushree Thapa
(c)	The Assassination of Rajiv Gandhi	(iii)	Kate Brittle Bank

(a) (b) (c)

(1) (iii) (i) (ii)

(2) (iii) (ii) (i)

(3) (i) (ii) (iii)

(4) (ii) (i) (iii)

59. Central Board of Direct Taxes launched e-nivaran facility to help the taxpayers.

It relates to :

(a) Income Tax Refunds

(b) Income Tax Returns

(c) Tax Deducted at Source

(1) All (a), (b) and (c) are true.

(2) (a) is true and (b) is false.

(3) (b) is true and (c) is false.

(4) (c) is true and (a) is false.

- | | |
|--|--|
| <p>60. रियो ओलंपिक 2016 में 90 मिनट तक खेलने के बाद ब्राजील और जर्मनी के बीच फुटबॉल फाइनल मैच, कितने गोल की बराबरी पर था ?</p> <p>(1) 3 - 3 ✓</p> <p>(2) 0 - 0</p> <p>(3) 1 - 1</p> <p>(4) 2 - 2</p> | <p>60. In Rio Olympics 2016, after having played for 90 minutes at what score was the football final match tied between Brazil and Germany ?</p> <p>(1) 3 - 3</p> <p>(2) 0 - 0</p> <p>(3) 1 - 1</p> <p>(4) 2 - 2</p> |
| <p>61. प्रेसीडेंट बराक ओबामा और राज्य काउंसलर ऑंग सान सू की के बीच हुई बैठक के बाद सं. राज्य अमेरिका तैयार दिखाई पड़ता है :</p> <p>(1) नई सरकार को सैन्य सहायता देने को</p> <p>(2) उसकी सरकार को सैनिक जनता के विरुद्ध समर्थन देने को</p> <p>(3) मुस्लिम शरणार्थियों के पुनर्वासन को</p> <p>(4) म्यांमार से सभी नियंत्रण उठा लेने को ✓</p> | <p>61. After a meeting between President Barack Obama and Myanmar State Counsellor Aung San Suu Kyi, the US seems to be prepared :</p> <p>(1) to provide military support to the new government</p> <p>(2) to support her government against the military Junta</p> <p>(3) to rehabilitate the Muslim refugees</p> <p>(4) to lift all sanctions on Myanmar</p> |
| <p>62. हमारी गणतंत्र दिवस परेड 2016 में मुख्य अतिथि कौन थे ?</p> <p>(1) कतर के शेख</p> <p>(2) अबू धाबी के युवराज ✗</p> <p>(3) संयुक्त अरब अमीरात के शाह ✓</p> <p>(4) दुबई के शेख</p> | <p>62. Who was the chief guest on our R-Day parade 2016 ?</p> <p>(1) Sheikh of Qatar</p> <p>(2) Crown Prince of Abu Dhabi</p> <p>(3) King of UAE</p> <p>(4) Sheikh of Dubai</p> |

63. "भारतीय बैंकों ने हाल ही में अपनी ATM मशीनों को पुनः अंशोक्त किया है।"

यहाँ ATM से तात्पर्य है :

- (1) ऑटोमेटेड ट्रांसफर मशीन
- (2) ऑटोमेटिक ट्रांसफर ऑफ मनी
- (3) ऑटोमेटेड ट्रांसफर ऑफ मनी
- (4) ऑटोमेटेड टेलर मशीन ✓

64. पैरालिंपिक खेल 2016 में स्वर्ण पदक प्राप्त करने वाली प्रथम भारतीय महिला थीं :

- (1) अल्का ग्रेस
- (2) साक्षी मलिक
- (3) दीपा मलिक
- (4) वरुणा भाटी ✓

65. 2015 के लिए फिल्मफेयर श्रेष्ठ अभिनेता सम्मान किसे मिला ?

- (1) शाहरुख खान
- (2) अमिताभ बच्चन ✓
- (3) अक्षय कुमार
- (4) रणवीर सिंह ✓

63. "Indian Banks have recently recalibrated their ATMs."

Here ATM stands for :

- (1) Automated Transfer Machine
- (2) Automatic Transfer of Money
- (3) Automated Transfer of Money
- (4) Automated Teller Machine

64. The first Indian woman to win a Gold medal in Paralympic Games 2016 is :

- (1) Alka Grace
- (2) Sakshi Malik
- (3) Deepa Malik
- (4) Varuna Bhati

65. Who won the (Filmfare) best actor award for the year 2015 ?

- (1) Shah Rukh Khan
- (2) Amitabha Bachchan
- (3) Akshay Kumar
- (4) Ranveer Singh

66. आठवाँ BRICS शिखर सम्मलेन अक्टूबर 2016 में _____ में आयोजित हुआ।

(1) मुंबई

✓ (2) गोवा

(3) अहमदाबाद

(4) आगरा

67. BRICS की महिला सांसदों की बैठक हाल ही में _____ में आयोजित की गई।

(1) माउंट आबू

(2) अजमेर ✓

(3) जयपुर

(4) जोधपुर

68. फोर्बेस की 100 सर्वाधिक धनी भारतीयों की सूची में प्रथम स्थान पर कौन है?

✓ (1) मुकेश अंबानी

(2) नुस्ली वाडिया

(3) अजीम प्रेमजी

(4) दिलीप संघवी

66. 8th BRICS Summit held in October 2016 took place in _____.

(1) Mumbai

(2) Goa

(3) Ahmedabad

(4) Agra

67. The recent meet of BRICS Women Parliamentarians was held at :

(1) Mt. Abu

(2) Ajmer

(3) Jaipur

(4) Jodhpur

68. According to Forbes, 100 Richest Indians List, number one rank is held by _____.

(1) Mukesh Ambani

(2) Nusli Wadia

(3) Azim Premji

(4) Dilip Shanghvi

69. नोबेल शांति पुरस्कार 2016 के विजेता जुआन मैनुएल सांतोस _____ राष्ट्रपति हैं।

(1) वेनेजुएला ✓

(2) इक्वाडोर

(3) पराग्वे

(4) कोलंबिया

70. दिल्ली हाइकोर्ट ने हाल ही में उन तिब्बतियों को भारतीय नागरिकता प्रदान की है जिनका जन्म _____ के बीच हुआ हो।

(1) जनवरी 31, 1960 - मार्च 31, 1990

(2) अगस्त 15, 1947 - जुलाई 30, 1987 ✓

(3) जनवरी 26, 1950 - जुलाई 01, 1987

(4) जनवरी 01, 1952 - अगस्त 15, 1990

71. इन में से कौन-सा विकल्प समान संबंध दर्शाता है जो कि भाई : बहन में है?

(1) पिता : पुत्री ✗

(2) पिता : माता ✓

(3) पति : पत्नी

(4) पिता : पुत्र

69. Nobel Peace Prize 2016 winner, Juan Manual Santos is the President of _____.

(1) Venezuela

(2) Ecuador

(3) Paraguay

(4) Colombia

70. The Delhi High Court has recently granted Indian citizenship to those Tibetans who were born here between :

(1) January 31, 1960 - March 31, 1990

(2) August 15, 1947 - July 30, 1987

(3) January 26, 1950 - July 01, 1987

(4) January 01, 1952 - August 15, 1990

71. Which of the following has the same relationship as that of Brother : Sister ?

(1) Father : Daughter

(2) Father : Mother

(3) Husband : Wife

(4) Father : Son

72. दिए गए कथनों को सत्य मानकर चाहे वे सामान्यतः ज्ञात तथ्यों से भिन्न प्रतीत होते हों, यह निर्णय कीजिए कि कथनों से कौन-से निष्कर्ष तर्क संगत रूप से निकलते हैं।

कथन :

सभी आम फल हैं; सभी फल सब्जियाँ हैं। कोई भी सब्जी अनाज नहीं है।

निष्कर्ष :


- (I) कुछ फल आम हैं। ✓
(II) कुछ अनाज सब्जियाँ हैं। ✗
(III) कुछ फल अनाज हैं। ✗



- (1) केवल निष्कर्ष (II) और (III) निकलते हैं।
✓ (2) केवल निष्कर्ष (I) निकलता है।
(3) केवल निष्कर्ष (I) और (II) निकलते हैं।
(4) केवल निष्कर्ष (II) निकलता है।

73. कोनिका ने कहा, "विवेक मेरी माँ का इकलौता बेटा है तथा जया की इकलौती बेटी सोनल का पिता है।" सोनल कोनिका से किस तरह संबंधित है?

- (1) पौत्री
(2) भाभी
✓ (3) भतीजी
(4) बहन



72. Take the given statements as true even if they seem to be at variance from commonly known facts and decide which of the conclusions logically follows from the statements.

Statements :

All Mangoes are fruits. Some fruits are vegetables. No vegetable is cereal.

Conclusion :



- (I) Some fruits are Mangoes
(II) Some cereals are vegetables
(III) Some fruits are cereals.

- (1) Only conclusion (II) and (III) follow
(2) Only conclusion (I) follows
(3) Only conclusion (I) and (II) follow
(4) Only conclusion (II) follows

73. Konika Said, "Vivek is my Mother's only Son and Father of Jaya's only Daughter Sonal". How is Sonal related to Konika ?

- (1) Grand daughter
(2) Sister-in-law
(3) Niece
(4) Sister

74. निम्न दिए रेखाचित्रों में से कौन-सा चित्र मेज़, कुर्सी और फर्नीचर में सम्बन्ध दर्शाता है ?



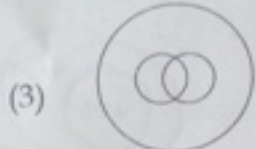

A — सफ़ेद — दिल्ली
B — पीला — गुजरात
C — काला — असम
D — नीला — दिल्ली
E — भूरा — असम
F — हरा — गुजरात
G — लाल — असम

C & F — same shade

— गुजरात
लाल असम

गुजरात = दिल्ली के लिए X
C = हरा X

74. Which of the following diagram can depict the exact relation between Table, Chair and Furniture ?



A — दिल्ली X

निर्देश प्रश्न संख्या 75 से 78 निम्नलिखित सूचना पर आधारित हैं।

सात लोग ABCDEF और G एक बस में यात्रा कर रहे हैं जो कि विभिन्न राज्यों जैसे दिल्ली, असम व गुजरात के रहने वाले हैं। किसी भी एक राज्य के व्यक्ति न तो दो से कम हैं और न ही तीन से अधिक हैं। हर एक ने अलग-अलग रंग का परिधान पहना हुआ है जैसे लाल, सफ़ेद, पीला, नीला, हरा, भूरा और काला पर जरूरी नहीं है की इसी क्रम में हो।

E गुजरात से नहीं है तथा उसने भूरे रंग का परिधान पहना है। जिसने लाल रंग का परिधान पहना है वह असम से है। A दिल्ली राज्य से है और D भी। B ने पीला परिधान पहना है और उसी राज्य से है जिस से C व F हैं। गुजरात राज्य के किसी भी व्यक्ति ने सफ़ेद या नीला परिधान नहीं पहना है। C ने हरा नहीं पहना है और A ने नीला नहीं पहना है।

75. लाल रंग का परिधान किसने पहना है ?

- (1) G ✓
(2) A
(3) C
(4) D

Directions Q. No. 75 - 78 are based on the following information.

Seven persons ABCDEF and G, travelling in a bus belong to different states viz Gujarat, Assam, and Delhi. Not less than two and not more than three persons belong to one state. Each of them wearing different colour outfit viz Red, White, Yellow, Blue, Green, Brown and Black but not necessary in same order.

E doesn't belong to Gujarat and wearing Brown colour outfit. The one who is wearing red colour belongs to Assam A belongs to Delhi as well as D too. B is wearing Yellow and belongs to same state as C and F. Nobody who belongs to state of Gujarat is wearing White or Blue. C is not wearing Green and A is not wearing Blue.

75. Who is wearing Red coloured Outfit ?

- (1) G
(2) A
(3) C
(4) D

76. निम्न से कौन-सा समूह व्यक्ति-राज्य-परिधान का रंग सही है ?

- ✓ (1) F - गुजरात - हरा .
- (2) E - दिल्ली - भूरा x
- (3) A - असम - लाल x
- (4) C - गुजरात - पीला x

77. D के परिधान का क्या रंग है ?

- (1) लाल
- (2) सफेद
- ✓ (3) नीला
- (4) काला

78. इन में कौन-सा समूह गुजरात राज्य से है ?

- (1) CEF
- (2) ABC
- ✓ (3) BCF
- (4) BCE

79. यदि शब्द 'INTERNATIONAL' का हर स्वर अंग्रेजी भाषा के वर्णमाला के अनुसार उसके अगले अक्षर से बदल दिया जाए तथा हर व्यंजन अंग्रेजी भाषा के वर्णमाला अनुसार उसके पिछले अक्षर से बदल दिया जाए तो बाएँ ओर से पाँचवाँ अक्षर क्या होगा ?

Q E I O U

- ✓ (1) Q
- (2) F
- (3) M
- (4) N

76. Which of the following combinations of person - state - outfit colour is correct ?

- (1) F - Gujarat - Green
- (2) E - Delhi - Brown
- (3) A - Assam - Red
- (4) C - Gujarat - Yellow

77. What is the colour of Outfit of D ?

- (1) Red
- (2) White
- (3) Blue
- (4) Black

78. Which of the following combination represent the persons from Gujarat ?

- (1) CEF
- (2) ABC
- (3) BCF
- (4) BCE

79. If the every vowel of the word 'INTERNATIONAL' is changed to its next letter in English alphabet and every consonant is changed to its previous letter in English alphabet then what should be the fifth letter from the left ?

- (1) Q
- (2) F
- (3) M
- (4) N

80. 'वर्ग' उसी तरह सम्बंधित है 'घन' से जिस प्रकार 'आयत' सम्बंधित है _____ से।

- ✓ (1) घनाभ
(2) गोला
(3) शंकु
(4) बहुभुज

81. निम्न विकल्पों से कौन-सा विकल्प JAN : JUL के संबंध को दर्शाता है?

- (1) NOV : DEC
(2) MAR : SEP
(3) FEB : OCT
(4) APR : AUG

निर्देश प्रश्न संख्या 82 एवं 83 निम्नलिखित सूचना पर आधारित हैं।

6 व्यवसायिक लोगों के समूह में, दो युगल हैं। इन में से एक युगल का व्यवसाय डाक्टर है तथा दूसरा अध्यापक हैं, शेष वकील व बैंकर हैं। बैंकर की पत्नी व्यवसायिक नहीं है, जब कि वकील की अभी तक शादी नहीं हुई।

दो - D.
दो - अध्यापक
दो - बैंकर

82. इस 6 पेशावरों के समूह में कितने पुरुष हैं?

- ✓ (1) चार
(2) केवल दो
(3) केवल तीन
(4) तीन या चार

83. इन 6 व्यवसायिक लोगों के समूह में कितनी स्त्रियाँ हैं?

- (1) तीन
(2) केवल एक
✓ (3) केवल दो
(4) दो या तीन

80. 'Square' is related to 'Cube' in the same way as 'rectangle' is related to _____.

- (1) Cuboid
(2) Sphere
(3) Cone
(4) Polygon

81. Which of the following alternatives has same relationship as that of JAN : JUL ?

- (1) NOV : DEC
(2) MAR : SEP
(3) FEB : OCT
(4) APR : AUG

Directions Q. No. 82 - 83 are based on the following information.

In a group of 6 professionals, there are two couples. One of the couple is Doctor and the other is Teacher, others are Lawyer and Banker. Banker's wife is not a professional where as Lawyer is still bachelor.

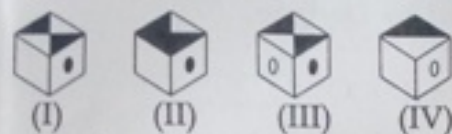
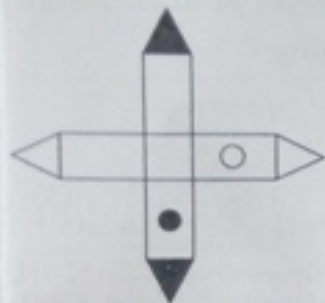
82. How many male members are there in this group of 6 professionals.

- (1) Four
(2) Only Two
(3) Only Three
(4) Three or Four

83. How many female members are there in this group of 6 professionals.

- (1) Three
(2) Only One
(3) Only Two
(4) Two or Three

84. निम्न दिए विकल्पों में से उस घन को चुनिए जो दी गई आकृति को मोड़ने पर बनेगा।



- (1) केवल (IV)
(2) केवल (I) ✓
(3) केवल (II)
(4) केवल (III)

85. दिए गए कथन को सत्य मानकर, चाहे वह सामान्यतः ज्ञात तथ्यों से भिन्न हों, यह निश्चित कीजिए कि कथन से कौन-से निष्कर्ष तर्क संगत रूप से निकाले जा सकते हैं।

कथन :

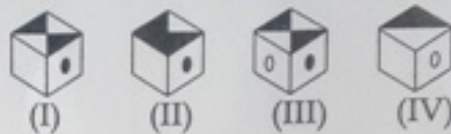
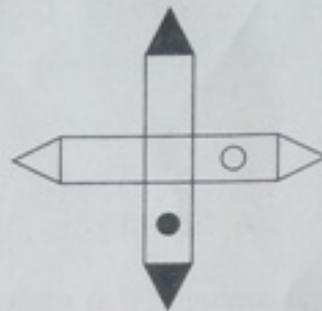
निजी विद्यालयों में कार्यरत शिक्षक परिश्रमी होते हैं।

निष्कर्ष :

- (I) कुछ परिश्रमी शिक्षक निजी विद्यालयों में कार्यरत हैं।
(II) सरकारी कर्मचारी परिश्रमी नहीं होते।

- (1) न तो निष्कर्ष (I) न ही (II) निकलता है।
(2) केवल निष्कर्ष (I) निकलता है। ✓
(3) केवल निष्कर्ष (II) निकलता है।
(4) निष्कर्ष (I) और (II) दोनों निकलते हैं।

84. Choose the cube from alternatives that will be similar to the cube formed by folding the given figure.



- (1) Only (IV)
(2) Only (I)
(3) Only (II)
(4) Only (III)

85. Consider the given statement to be true even if they seem to be at variance from commonly known facts, and decide which of the given conclusions logically follow(s) from the statements.

Statement :

Private school teachers are hard-working.

Conclusions :

- (I) Some hard-working teachers are private school teachers.
(II) Government employees are not hard-working.

- (1) Neither conclusion (I) nor (II) follows.
(2) Only conclusion (I) follows.
(3) Only conclusion (II) follows.
(4) Both conclusions (I) and (II) follow.

86. नीचे दिए गए कथन को सत्य मानते हुए, कथन में दी गई सूचना के आधार पर सुझायी गई कौन-सी कार्यवाही करने के लिए तर्क संगत है ?

कथन :

नई दिल्ली में एक बड़ी जनसंख्या डेंगू से ग्रसित पाई गई।

कार्यवाही :

- (I) नई दिल्ली के सबसे प्रभावित क्षेत्रों में तत्काल धुआँ देना चाहिए।
- (II) मच्छर के काटने से कैसे बचें और बीमारी को फैलने से कैसे रोकें पर प्रचार करना चाहिए।

✓ (1) कार्यवाही (I) और (II) दोनों अनुसरणीय हैं।

(2) केवल कार्यवाही (I) अनुसरणीय है।

(3) केवल कार्यवाही (II) अनुसरणीय है।

(4) कार्यवाही (I) या (II) अनुसरणीय हैं।

86. By assuming the given statement to be true and on the basis of the information given in the statement, decide which of the suggested course(s) of action logically follows for pursuing ?

Statement :

A large population of New Delhi is diagnosed by Dengue.

Course of Action :

- (I) The Municipal corporation should immediately carry out extensive fumigation on most affected areas of New Delhi.
- (II) Extensive publicity should be done on how to avoid mosquito bites and prevent out spread of disease.

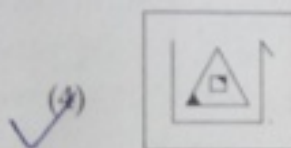
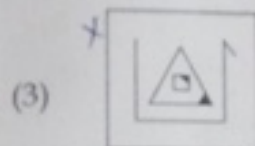
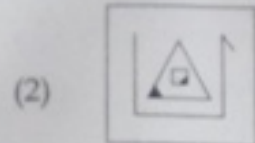
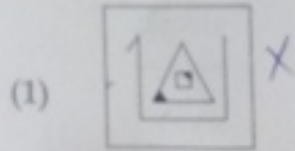
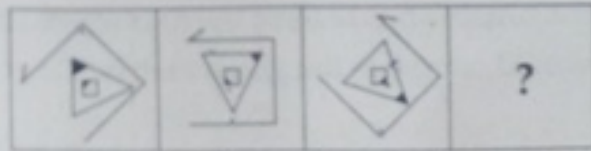
(1) Both Action (I) and (II) follow.

(2) Only Action (I) follows.

(3) Only Action (II) follows.

(4) Either Action (I) or (II) follows.

87. निम्न दिए विकल्पों में से वह आकृति चुनिए जो दी गई श्रृंखला को पूरा करें।



88. कौशल एक सरकारी संस्था में अच्छे पद पर है। वह ईमानदारी से कार्य करता है। अपने दफ्तर में वह सबसे ज्यादा पसंद किए जाने वाला कर्मचारी है। वह अपने अधिन कार्यरतों की सहायता करता है व वरिष्ठ अधिकारियों को सहयोग देता है। वह कठिन परिश्रम करता है परन्तु कई बार लोग उसे गलत समझ लेते हैं। दी गई सूचना के आधार पर निम्नलिखित में से कौन-सा कथन सत्य है?

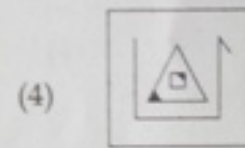


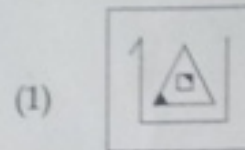
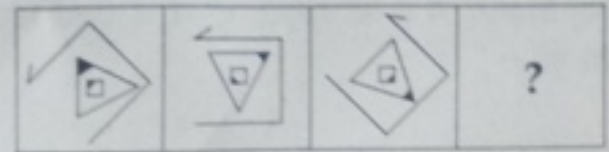
✓ (1) वह अपने आप को अभिव्यक्त नहीं कर पाता है।

(2) कौशल एक दयालु सहृदय व्यक्ति है।

X (3) कौशल सरकारी कर्मचारी है।

X (4) वह अपने वरिष्ठ अधिकारियों का सम्मान करता है।

87. Select a figure from alternatives which will continue the given series.



88. Kaushal is working in government organisation at good regular position. He works very honestly. He is the most liked employee in the office. He supports his sub-ordinates and assists his seniors. He works hard but sometimes people misunderstand him. Which of the following statements is true according to the given information ?

(1) He is not able to express himself.

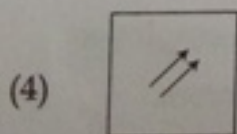
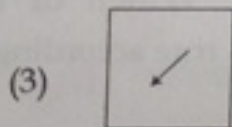
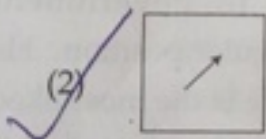
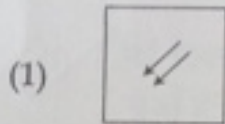

(2) Kaushal is kind hearted man.

(3) Kaushal is a Govt. employee.

(4) He respects his seniors.

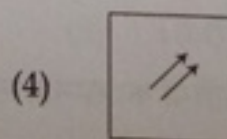

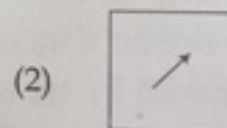


निर्देश प्रश्न संख्या 89 से 91 में।

दिए गए चार विकल्पों में से वह आकृति चुनिए जो दी गई मैट्रिक्स को पूरा करें।




Directions for question No. 89 to 91.

Select a suitable figure from the four alternatives that would complete the given matrix.

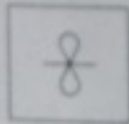


90.

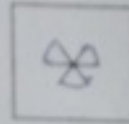


मैट्रिक्स


(1)



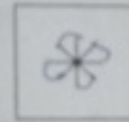
(2)




(3)



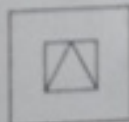
✓(4)



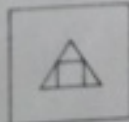
91.



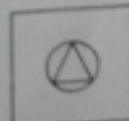
(1)



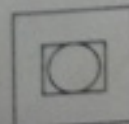
(2)




(3)



✓(4)

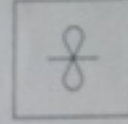


90.

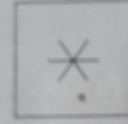


MATRIX

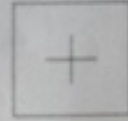
(1)



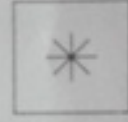
(2)




(3)



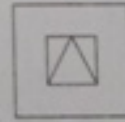
(4)



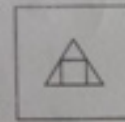
91.



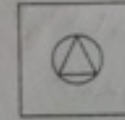
(1)



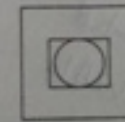
(2)



(3)



(4)



92. दिए हुए विकल्पों में से उस शब्द को चुनिए जो दिए गए शब्द के अक्षरों का प्रयोग करके नहीं बनाया जा सकता।

ENVIRONMENT

- (1) NEVER
(2) METER
☒ (3) RIVER
(4) ENTRE

93. विकल्पों में से उस शब्द युगल को चुनिए जो दिए शब्द युगल जैसा ही सम्बन्ध दर्शाता है।

रेशा : वस्त्र

- ☒ (1) लुगदी : कागज
(2) धागा : सुई
(3) बीज : पेड़
(4) बाल : कंघी

94. निम्न विकल्पों में से अंकों के उस संयोजन को चुनिए जिस के अनुसार यदि दिए अक्षरों को व्यवस्थित करें तो एक सार्थक शब्द बन जाए।

A	R	W	L	E	K
↓	↓	↓	↓	↓	↓
1	2	3	4	5	6

- ☒ (1) 314652 *WALKER*
(2) 413652 *LAWKER*
(3) 251462 *REALKR*
(4) 652314 *KERWAL*

92. From the given alternatives select the word which cannot be formed by using the letters of the given word.

ENVIRONMENT

- (1) NEVER
(2) METER
(3) RIVER
(4) ENTRE

93. Select that pair of words from the alternatives that expresses similar relationship as in given pair of words.

Fibre : Fabric

- (1) Pulp : Paper
(2) Thread : Needle
(3) Seed : Tree
(4) Hair : Comb

94. Select from the alternatives that combination of numbers, which will form a meaningful word if given letters are arranged accordingly.

A	R	W	L	E	K
↓	↓	↓	↓	↓	↓
1	2	3	4	5	6

- (1) 314652
(2) 413652
(3) 251462
(4) 652314

94. सलमान नौ वर्ष का बालक है। वह अपने माता-पिता का इकलौता बच्चा है। वह अपने दोस्तों के साथ हर शाम खेलता है। सलमान के पिता अधिकतर देर शाम तक घर आते हैं। उसकी माँ तीन लोगों के परिवार के लिए स्वादिष्ट खाना बनाती है। अब, निम्न दिए कथनों में से वह कथन पहचानिए जो कि उपरोक्त जानकारी के अनुसार बिलकुल सही है।

- ✗ (1) सलमान अपने मित्रों के साथ फुटबॉल खेलता है।
- ✗ (2) सलमान के माता पिता उसके साथ नहीं खेलते हैं।
- ✓ (3) सलमान के कोई सहोदर भाई-बहन नहीं है।
- (4) सलमान की माता जी को खाना बनाना पसंद है।

96. दिए गए विकल्पों में से उस शब्द को चुनिए जो दिए गए शब्द के अक्षरों का प्रयोग करके नहीं बनाया जा सकता।

INTERNATIONAL

- (1) INNER
- (2) RATION
- ✓ (3) LETTER
- (4) TRAIN

95. Salmaan is nine year old boy. He is the only child of his parents. He used to play with his friends every evening. Salmaan's father usually come home in late evening. His mother cooks tasty dinner for the family of three. Now, find the statement that must be true according to the given information.

- (1) Salmaan plays football with his friends.
- (2) Salmaan's parents don't play with him.
- (3) Salmaan doesn't have any sibling.
- (4) Salmaan's mother likes cooking.

96. From the given alternatives select the word which cannot be formed by using the letters of the given word.

INTERNATIONAL

- (1) INNER
- (2) RATION
- (3) LETTER
- (4) TRAIN

निर्देश प्रश्न संख्या 97 से 99 तक निम्नलिखित सूचना पर आधारित हैं।

$A \Delta B$ अर्थात् A, B से छोटा नहीं है।

$A \star B$ अर्थात् A न B से छोटा है न बराबर है।

$A @ B$ अर्थात् A, B से न ही बड़ा है नहीं बराबर है।

$A + B$ अर्थात् A, B से बड़ा नहीं है।

$A \% B$ अर्थात् A, B से न ही बड़ा है न ही छोटा है।

97. कथन :

$P @ Q, Q + R, R \% T$

निष्कर्ष :

(I) $P @ T$

(II) $Q + T$

(III) $P \star R$

(1) केवल (III) सत्य है।

(2) केवल (I) सत्य है।

(3) केवल (II) सत्य है।

✓ (4) केवल (I) व (II) सत्य हैं।

98. कथन :

$P \star Q, Q \Delta R, R \star T$

निष्कर्ष :

(I) $P \star T$

(II) $P \Delta R$

(III) $Q \Delta T$

(1) केवल (II) व (III) सत्य हैं।

✓ (2) केवल (I) सत्य है।

(3) केवल (II) सत्य है।

(4) केवल (I) व (II) सत्य हैं।

Directions Q. No. 97 - 99 are based on the following information.

$A \Delta B$ means A is not smaller than B.

$A \star B$ means A is neither smaller than and nor equal to B.

$A @ B$ means A is neither greater than and nor equal to B.

$A + B$ means A is not greater than B.

$A \% B$ means A is neither greater than nor smaller than B.

97. Statements :

$P @ Q, Q + R, R \% T$

Conclusions :

(I) $P @ T$

(II) $Q + T$

(III) $P \star R$

(1) Only (III) is true.

(2) Only (I) is true.

(3) Only (II) is true.

(4) Only (I) and (II) are true.

98. Statements :

$P \star Q, Q \Delta R, R \star T$

Conclusions :

(I) $P \star T$

(II) $P \Delta R$

(III) $Q \Delta T$

(1) Only (II) and (III) are true.

(2) Only (I) is true.

(3) Only (II) is true.

(4) Only (I) and (II) are true.

99. वे मानते हुए कि दिए कथन सही हैं, यह निर्णय कीजिए कि इन नीचे दिए कथनों पर आधारित कौन-से निष्कर्ष सत्य हैं ?

कथन :

$$P+Q, Q\%R, R@T$$

निष्कर्ष :

- (I) $P@T$
- (II) $Q+T$
- (III) $P+R$

$$P \leq Q = R \leq T$$

$$P < T$$

$$Q \leq T$$

$$P \leq R$$

- ✓ (1) केवल (I) और (III) सत्य हैं।
- (2) केवल (I) सत्य है।
- (3) केवल (I) और (II) सत्य हैं।
- (4) केवल (III) सत्य है।

100. निम्न दिए शब्दों को अंग्रेजी शब्दकोश के अनुरूप व्यवस्थित कीजिए।

- (a) peremptory *
- (b) perceptible
- (c) perceptual
- (d) perforation
- (e) percentile

- (1) (e), (c), (b), (d), (a)
- ✓ (2) (e), (b), (c), (a), (d)
- (3) (e), (c), (b), (a), (d)
- (4) (e), (b), (c), (d), (a)

99. Assuming the given statements as true decide which of the conclusions are true on the basis of these statements.

Statements :

$$P+Q, Q\%R, R@T$$

Conclusions :

- (I) $P@T$
- (II) $Q+T$
- (III) $P+R$

- (1) Only (I) and (III) are true.
- (2) Only (I) is true.
- (3) Only (I) and (II) are true.
- (4) Only (III) true.

100. Arrange the following words according to the English dictionary arrangement.

- (a) peremptory
- (b) perceptible
- (c) perceptual
- (d) perforation
- (e) percentile

- (1) (e), (c), (b), (d), (a)
- (2) (e), (b), (c), (a), (d)
- (3) (e), (c), (b), (a), (d)
- (4) (e), (b), (c), (d), (a)

99. ये मानते हुए कि दिए कथन सही हैं, यह निर्णय कीजिए कि इन नीचे दिए कथनों पर आधारित कौन-से निष्कर्ष सत्य हैं ?

कथन :

$$P+Q, Q\%R, R@T$$

निष्कर्ष :

(I) $P@T$

(II) $Q+T$

(III) $P+R$

$$\begin{array}{l} P \leq Q = R \leq T \\ P < T \\ Q \leq T \\ P \leq R \end{array}$$

✓ (1) केवल (I) और (III) सत्य हैं।

(2) केवल (I) सत्य है।

(3) केवल (I) और (II) सत्य हैं।

(4) केवल (III) सत्य है।

100. निम्न दिए शब्दों को अंग्रेजी शब्दकोश के अनुरूप व्यवस्थित कीजिए।

(a) peremptory * (5)

(b) perceptible (5)

(c) perceptual (5)

(d) perforation (5)

(e) percentile (5)

(1) (e), (c), (b), (d), (a)

✓ (2) (e), (b), (c), (a), (d)

(3) (e), (c), (b), (a), (d)

(4) (e), (b), (c), (d), (a)

99. Assuming the given statements as true decide which of the conclusions are true on the basis of these statements.

Statements :

$$P+Q, Q\%R, R@T$$

Conclusions :

(I) $P@T$

(II) $Q+T$

(III) $P+R$

(1) Only (I) and (III) are true.

(2) Only (I) is true.

(3) Only (I) and (II) are true.

(4) Only (III) true.

100. Arrange the following words according to the English dictionary arrangement.

(a) peremptory

(b) perceptible

(c) perceptual

(d) perforation

(e) percentile

(1) (e), (c), (b), (d), (a)

(2) (e), (b), (c), (a), (d)

(3) (e), (c), (b), (a), (d)

(4) (e), (b), (c), (d), (a)

101. उस सही विकल्प को चुनिए जो दी गई संख्या-श्रृंखला को पूरा करेगा।

10, 11, 15, 24, 40, 65, _____

(1) 95

(2) 100

(3) 90

(4) 101

102. उसे चुनिए जो अन्य तीन से भिन्न है :

(1) नर्मदा

(2) गंगा

(3) यमुना

(4) गोदावरी

103. उस सही विकल्प को चुनिए जो दी गई अक्षर-श्रृंखला को पूरा करेगा।

ABCD, BDFH, CFIL, DHLP, EJOT

(1) EJOU

(2) EINT

(3) EJOT

(4) EJOS

101. Choose the correct alternative which will complete the given number series.

10, 11, 15, 24, 40, 65, _____

(1) 95

(2) 100

(3) 90

(4) 101

102. Select the one which is different from other three :

(1) Narmada

(2) Ganga

(3) Yamuna

(4) Godavari

103. Choose the correct alternative which will complete the given letter - series.

ABCD, BDFH, CFIL, DHLP, _____

(1) EJOU

(2) EINT

(3) EJOT

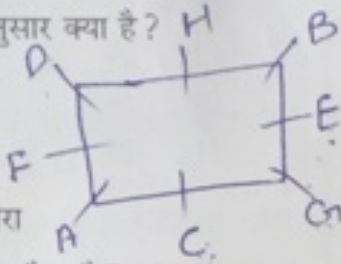
(4) EJOS

निर्देश प्रश्न संख्या 104 से 106 निम्नलिखित सूचना पर आधारित हैं।

आठ अधिकारी A, B, C, D, E, F, G और H एक आयताकार मेज के आस पास एक बैठक कर रहे हैं। 'E', 'C' के दाएँ ओर दूसरे स्थान पर बैठा है जबकि 'C', 'A' के दाएँ ओर बैठा है जो कि 'F' के दाएँ ओर बैठा है। 'A', 'B' के सामने बैठा है। 'D', 'F' और 'H' के बीच में बैठा है। इनमें से कोई भी मेज के कोने में नहीं बैठा है। मेज के विपरीत ओर बराबर अधिकारी बैठे हैं। तीन अधिकारी मेज की एक तरफ बैठे हैं।

104. 'G' का स्थान 'C' के अनुसार क्या है?

- (1) बिल्कुल विपरीत
- ✓ (2) निकटतम दाएँ
- (3) निकटतम बाएँ
- (4) उसके दाएँ से दूसरा



105. C और E के बीच में कौन बैठा है?

- (1) B
- (2) F
- ✓ (3) G
- (4) H

106. D के निकटतम दायीं ओर कौन बैठा है?

- (1) H
- (2) A
- (3) B
- ✓ (4) F

107. दिए गए शब्द में ऐसे कितने अक्षर युगल हैं, शब्द में जिनके बीच में उतने ही अक्षर हैं जितने अंग्रेजी वर्णमाला में हैं?

CORPORATION

- ✓ (1) 4
- (2) 1
- (3) 2
- (4) 3

Directions Q. No. 104 to 106 are based on the following information.

Eight executives A, B, C, D, E, F, G and H are attending a meeting around the rectangular table. 'E' is sitting second to the right of 'C'. Whereas 'C' is sitting right to 'A' which is to the right of 'F'. A is sitting just opposite to 'B'. 'D' is sitting in between 'F' and 'H'. None of them are sitting on the corners. Equal number of executives are sitting on opposite sides of table. Three executives are sitting on one side of table.

104. What is the position of 'G' in respect of 'C'?

- (1) Just opposite
- (2) Immediate right
- (3) Immediate left
- (4) Second to its right

105. Who is sitting in between C and E?

- (1) B
- (2) F
- (3) G
- (4) H

106. Who is sitting immediate right to D?

- (1) H
- (2) A
- (3) B
- (4) F

107. How many such pairs of letters are there in the given word which have as many letters between them in the word as in the English alphabet?

CORPORATION

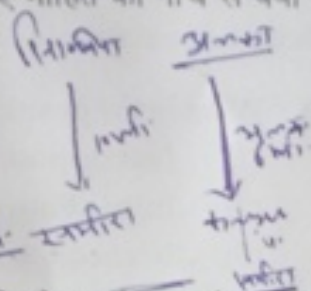
- (1) 4
- (2) 1
- (3) 2
- (4) 3

निर्देश प्रश्न संख्या 108 से 110 निम्नलिखित सूचना पर आधारित हैं।

कल्पना, अलका से 6 मी. दूर दक्षिण की ओर खड़ी है। सिन्धिया, कल्पना के पूर्व में 12 मी. पर खड़ी है। समीरा, सिन्धिया के 10 मी. दूर दक्षिण की ओर खड़ी है। समीरा भी इला के पूर्व में 12 मी. दूर खड़ी है तथा जासमीन, इला के उत्तर में 8 मी. दूर खड़ी है।

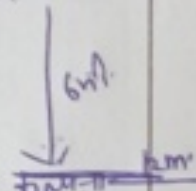
108. तीस छात्रों की कक्षा में मोहन का ऊपर से 12 वाँ स्थान है परन्तु उसका जुड़वाँ भाई मोहित उससे चार स्थान ऊपर है। बताइए मोहित का नीचे से क्या स्थान है?

- (1) 21
(2) 29
(3) 26
(4) 25



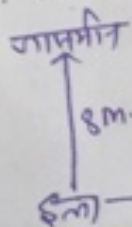
109. यदि कल्पना दक्षिण की ओर 4 मी. चल के जाती है तो वह इला से कितनी दूरी पर खड़ी है?

- (1) 10 मी.
(2) 4 मी.
(3) 5 मी.
(4) 6 मी.



110. कल्पना जासमीन से कितनी दूरी पर खड़ी है?

- (1) 10 मी.
(2) 1 मी.
(3) 2 मी.
(4) 8 मी.



111. सूक्ष्म शिक्षण से अभिप्राय है :

- (1) विषय की सूक्ष्म अवधारणाओं को समझाना
(2) सूक्ष्म स्तर पर अध्यापन करना
(3) अवधारणाओं तथा सिद्धांतों का विस्तृत विवरण देना
(4) विभिन्न अध्यापन कौशलों का पृथक् रूप में अभ्यास करना

Directions Q. No. 108 - 110 are based on the following information.

Kalpana is standing 6 mts south of Alka. Cinthia is standing 12 mts East of Kalpana. Sameera is standing 10 mts South of Cinthia. Sameera is also standing 12 mts East of Ella and Jasmine is 8 mts North of Ella.

108. In a class of thirty three students, Mohan's rank is 12th from the top, but his twin brother Mohit is 4 rank above from him. What is Mohit's rank from the bottom?

- (1) 21
(2) 29
(3) 26
(4) 25

109. If Kalpana walked 4 mts toward her South how far is she standing from Ella?

- (1) 10 mts
(2) 4 mts
(3) 5 mts
(4) 6 mts

110. How far is Kalpana standing from Jasmine?

- (1) 10 mts
(2) 1 mts
(3) 2 mts
(4) 8 mts

111. Micro-teaching is :

- (1) teaching micro-concepts of the subject
(2) teaching at micro level
(3) providing detailed explanation of concepts and principles
(4) practising different teaching skills separately


<p>112. परीक्षण विनिर्देशन/ब्लू प्रिंट के अनुसार किसी परीक्षण की रचना करने से प्रायः किस चीज में वृद्धि होती है ?</p> <p>(1) कन्स्ट्रक्ट वैधता</p> <p>✓(2) विश्वसनीयता</p> <p>(3) विषयवस्तु की वैधता</p> <p>(4) समवर्ती वैधता</p>	<p>112. Preparation of a test according to test specifications in the blue print mostly enhances :</p> <p>(1) construct validity</p> <p>(2) reliability</p> <p>(3) content validity</p> <p>(4) concurrent validity</p>
<p>113. सर्वाधिक सामान्य प्रतिरूप जिसे कोई बालक अपने जीवन को निर्देशित करने के लिए चयनित करता है वह है :</p> <p>(1) ऐसा कोई व्यक्ति जिसकी आत्म संकल्पना उससे अत्यधिक मिलती जुलती हो</p> <p>(2) अपना बड़ा भाई या बहन</p> <p>✓(3) एक माता या पिता, या एक अध्यापक अथवा कोई प्राधिकारी</p> <p>(4) कोई अन्य व्यक्ति जिसका आचरण पूर्णता की ओर जाता लगता हो</p>	<p>113. The most common model a child selects to guide his life is :</p> <p>(1) a person who approximates the child's self ideal</p> <p>(2) an older sibling</p> <p>(3) a parent, a teacher or a person in authority</p> <p>(4) a person whose conduct approaches perfection</p>
<p>114. अध्यापन के विषय में निम्नलिखित में कौन-सा कथन सही नहीं है ?</p> <p>(1) अध्यापन, शिक्षा की एक आवश्यक शर्त तो होती है परंतु पर्याप्त नहीं</p> <p>✓(2) अध्यापन के परिणाम स्वरूप बच्चे अनिवार्यतः सीखते ही हैं</p> <p>(3) अध्यापन में यह भावना निहित होती है कि कोई कुछ न कुछ सीखता ही है</p> <p>(4) अध्यापन की यह विशेषता है कि अध्यापक और अध्येता के मध्य एक विशेष संबंध होता है</p>	<p>114. Which of the following is not true about teaching ?</p> <p>(1) Teaching is necessary but not a sufficient condition of education</p> <p>(2) As a result of teaching the students must learn</p> <p>(3) Teaching involves the intention that some one must learn something</p> <p>(4) Teaching is characterized by a special relationship between the teacher and the taught</p>

115. जहाँ तक मूल्यों का प्रश्न है :

- (1) प्रयोजनवादी तथा यथार्थवादी मूल्यों के संतोषजनक स्रोत के रूप में अलौकिकवाद या अधिदैविकता को अस्वीकृत करते हैं
- ☒ (2) यथार्थवादी तथा आदर्शवादी दोनों के मूल्यों का आधार मानव अनुभव होता है
- (3) प्रयोजनवादी तथा आदर्शवादी दोनों के लिए मूल्यों का स्रोत व्यक्ति के बाहर स्थित है
- ☒ (4) आदर्शवादी और यथार्थवादी दोनों के लिए मूल्यों की व्युत्पत्ति अन्तर्ज्ञान तथा तर्कणा से होती है

116. यह चिन्तन क्या कहलाता है जिस में व्यक्ति बहुत सारे विचारों से आरंभ कर "एकल" समाधान पर पहुँचता है ?

- (1) अभिसारी चिन्तन
- (2) ऊर्ध्व चिन्तन
- (3) विचारावेश
- ☒ (4) अपसारी चिन्तन



117. सामाजिक विकास अनिवार्यतः -

- ☒ (1) सामाजिक कौशलों के विकास से जुड़ा है
- (2) सामाजिक व्यवस्था की अपेक्षाओं के साथ अनुसारिता का मामला है
- (3) सामाजिक सुरक्षा और स्वीकरण की प्राप्ति का मामला है
- (4) सामाजिक व्यवस्था और व्यक्ति के उद्देश्यों के समाकलन से संबंधित है

118. एक प्रकार का श्रेणीकरण जिसमें अलग-अलग श्रेणी-बिंदुओं पर अध्येताओं का एक निश्चित अनुपात होता है, क्या कहलता है ?

- (1) निरपेक्ष श्रेणीकरण
- (2) प्रत्यक्ष श्रेणीकरण
- (3) अप्रत्यक्ष श्रेणीकरण
- ☒ (4) सापेक्ष श्रेणीकरण

115. As to the question of values :

- (1) The pragmatist and the realist reject supernaturalism as a satisfactory source of values
- (2) The realist and idealist both obtain their values from man's experience
- (3) The pragmatist and the idealist derive their values from sources out side of man
- (4) The idealist and realist both obtain their values from intuition and reason

116. In which type of thinking does a person begin with multiple ideas and reaches "one" solution ?

- (1) Convergent thinking
- (2) Vertical thinking
- (3) Brain storming
- (4) Divergent thinking

117. Social development is essentially a matter of :

- (1) The development of social skills.
- (2) Conformity to the demands of the social order.
- (3) Achievement of social security and acceptance.
- (4) The integration of one's purposes with those of the social order.

118. A type of grading that asserts fixed proportion of learners at different grade points is known as :

- (1) Absolute grading
- (2) Direct grading
- (3) Indirect grading
- (4) Relative grading

119. ADHD (ए.डी.एच.डी.) संकेताक्षर का पूरा रूप क्या है ?

- (1) अटेंशन डेफिसिट हाइपर वेंटिलेटिंग डिसऑर्डर
- (2) अटेंटिव डिजाइन हैंड डिसऑर्डर
- ☒ (3) अटेंशन डेफिसिट हाइपरएक्टिविटी डिसऑर्डर
- (4) ऑल डाइट हाइपरएक्टिविटी डिसऑर्डर

120. निम्नलिखित में से कौन-सा कथन व्यक्ति के विकास पर आनुवंशिकता के प्रभाव को सर्वश्रेष्ठ रूप में वर्णित करता है ?

- (1) आनुवंशिकता यह निर्धारित करता है कि हम कहाँ तक जाएंगे
- ☒ (2) आनुवंशिकता यह बताने के लिए कि हम किस सीमा तक जा सकते हैं एक मूलभूत निर्धारक है
- (3) आनुवंशिकता यह बताने के लिए कि हम किस सीमा तक जाएंगे, एक मूलभूत निर्धारक है
- (4) आनुवंशिकता यह निर्धारित करता है कि हम कहाँ तक जा सकते हैं

121. अधिगम के क्षेत्र सिद्धांत का मुख्य बल निम्नलिखित में से किस पर है ?

- ☒ (1) वह भूमिका जो सीखी गई सामग्री लक्ष्यों की प्राप्ति में अदा करती है
- (2) अधिगम प्रक्रिया की समग्रता
- (3) अधिगम अवस्थिति की समग्रता
- (4) व्यवहार की सोदेश्यता

122. निम्नलिखित में से कौन-सा विशिष्ट अधिगम निःशक्तता का उदाहरण है ?

- (1) ऑटिस्टिक स्पेक्ट्रम विकार
- (2) मानसिक मंदन
- (3) पठनवैकल्य
- ☒ (4) ए.डी.एच.डी.

119. What does the abbreviation ADHD stand for ?

- (1) Attention Deficit Hyper Ventilating Disorder
- (2) Attentive Design Hand Disorder
- (3) Attention Deficit Hyperactivity Disorder
- (4) All DIET Hyperactivity Disorder

120. Which of the following best describes the extent of the effect of heredity upon development ?

- (1) Heredity determines how far we will go
- (2) Heredity is the primary determinant of how far we can go
- (3) Heredity is the primary determinant of how far we will go
- (4) Heredity determines how far we can go

121. The field Theory of Learning places primary emphasis upon :

- (1) the role, the attainment of one's goals, plays, in what is learned
- (2) the wholeness of learning process
- (3) the wholeness of learning situation
- (4) the purposiveness of behaviour

122. Which of the following is an example of a Specific Learning Disability ?

- (1) Autistic Spectrum Disorders
- (2) Mental retardation
- (3) Dyslexia
- (4) ADHD

123. परामर्श प्रक्रिया की निम्नलिखित अवस्थाओं को उस अनुक्रम में रखें जिसमें इनका पालन किया जाता है :

कोड :

- (a) परानुभूतिक समझ स्थापित करना
- (b) समापन तथा अनुवर्ती कार्यवाही
- (c) आरंभिक प्रक्रियाएँ
- (d) अंतःक्षेप कार्यनीतियाँ

कोड :

- (1) (a), (d), (b), (c)
- (2) (d), (c), (b), (a)
- ✓ (3) (a), (c), (d), (b)
- (4) (a), (b), (d), (c)

124. निम्नलिखित में से कौन-सी स्थिति प्रयोजनवाद की द्योतक होगी ?

- (1) खेल का उद्देश्य कार्य करने की योग्यता में सुधार लाना है
- (2) कोई संस्था इतनी पुनीत नहीं हो सकती जिसका विवेचित विश्लेषण अनिवार्य न हो
- ✓ (3) अच्छाई का विलोम बुराई होता है
- (4) जो एक व्यक्ति के लिए श्रेय है, वह अन्तर्निहित रूप से श्रेय होगा

125. पर्यवेक्षण का मूल उद्देश्य है :

- ✓ (1) बच्चों द्वारा अधिक प्रभावित रूप से सीखने में उनकी सहायता करना
- (2) उनकी अध्यापन तकनीकों को सुधारने में अध्यापकों की सहायता करना
- (3) बच्चों के प्रति अध्यापकों की समझ को सुधारने में उनकी सहायता करना
- (4) बच्चों के साथ बरताव करने में अध्यापकों के कुशल बनाने में उनकी सहायता करना

123. Arrange the following stages of counselling in which these are followed ?

Codes :

- (a) Establishing empathic understanding
- (b) Termination and follow up
- (c) Initial procedures
- (d) Intervention strategies

Codes :

- (1) (a), (d), (b), (c)
- (2) (d), (c), (b), (a)
- (3) (a), (c), (d), (b)
- (4) (a), (b), (d), (c)

124. It is a pragmatic position that :

- (1) The purpose of play is to improve the ability to work
- (2) No institution is too sacred to escape critical analysis
- (3) The opposite of an evil is good
- (4) What is good for the individual is inherently good

125. The basic purpose of supervision is to :

- (1) help children learn more effectively
- (2) help teachers improve their techniques of teaching
- (3) help teachers improve their understanding of children
- (4) help teachers become skilled in dealing with children

126. वे व्यक्ति जिन का शैक्षिक दर्शन प्रयोजनवाद है :

- (1) उन का विचार है कि बुद्धिलब्धि जन्मजात होती है और स्थिर भी
- (2) प्रयोगीकरण की वैज्ञानिक विधि को अस्वीकार कर देते हैं
- ✓ (3) दावा करते हैं कि संपूर्ण रूप से वस्तु निष्ठता संभव है
- (4) दावा करते हैं कि ज्ञान अंतरिम या अस्थायी होता है तथा सत्य सापेक्ष होता है

127. निःशक्त बच्चों की समेकित शिक्षा से अभिप्राय है :

- (1) आंशिक शिक्षा विशेष विद्यालयों में, तत्पश्चात् सामान्य विद्यालयों में
- (2) बच्चों की योग्यताओं के अनुसार निःशक्त बच्चों को विशेष विद्यालय में दाखिल करना
- ✓ (3) आरंभ से ही उन्हें सामान्य बालकों के साथ शिक्षा देना
- (4) विशेष बच्चों का अध्यापन विशेष अध्यापक ही कराते हैं

128. जॉयस तथा वायल (1980) ने विभिन्न उपलब्ध अध्यापन प्रतिरूपों को चार स्पष्ट वर्गों (समूहों) में बांटा। निम्नलिखित में से कौन-सा वर्ग, उन वर्गों में से एक नहीं है?

- ✓ (1) व्यवहार रूपांतरण वर्ग
- (2) सूचना प्रक्रमण वर्ग
- ✗ (3) वैयक्तिक वर्ग
- (4) उदार अधिगम वर्ग

126. Those whose educational philosophy is rooted in pragmatism :

- (1) consider that I.Q. is innate and constant
- (2) reject the scientific method of experimentation
- (3) maintain that complete objectivity is possible
- (4) claim that knowledge is tentative; truth is relative

127. Integrated education for the disabled implies :

- (1) part schooling in special schools and then part in normal schools
- (2) admitting disabled children in special school pertaining to their abilities
- (3) providing them education along with normal children from the beginning
- (4) only special teachers to teach such children

128. Joyce and Weil (1980) classified different teaching models into four distinct family. Which of the following does not belong to the group ?

- (1) Behaviour modification family
- (2) Information processing family
- (3) Personal family
- (4) Eclectic learning family

129. एक लोकतांत्रिक समाज का मूल आदर्श है :

- (1) जिस चीज को भी व्यक्ति अनुचित समझे तुरंत उसकी आलोचना करे
- ✓ (2) सशक्त नेतृत्व
- ✓ (3) नेता के विचारों में विश्वास
- (4) एक प्रबुद्ध व्यक्ति के लिए सम्मान

130. संचयी बारंबारता ग्राफ को क्या कहा जाता है ?

- (1) दंड आरेख
- ✓ (2) तोरण
- (3) पाई-आरेख
- (4) हिस्टोग्राम

131. सत्य-असत्य परीक्षण का सर्वाधिक महत्वपूर्ण लाभ है _____।

- ✓ (1) इसका उच्च नैदानिक मूल्य
- (2) इसमें संशुद्धि के माध्यम से अनुमान का विलोपन
- (3) इसका व्यापक प्रतिदर्शन
- (4) इसके मदों की वैधता

132. निम्नलिखित में से कौन-सा कथन मानसिक मंदता के संबंध में सही है ?

- (1) लगभग सभी प्रकार की शारीरिक चोट और मानसिक आघात मानसिक मंदता का कारण बनता है
- ✓ (2) मानसिक रूप से मंद बच्चों के माता-पिता भी सामान्यतः मानसिक मंदता से पीड़ित होते हैं
- ✓ (3) चिरकालिक संक्रमण तथा रोगों से पीड़ित माँ के बच्चों में मानसिक मंदता आ जाती है
- (4) अत्यंत गरीब परिवारों के बच्चे आवश्यक रूप से मानसिक मंदता का शिकार हो जाते हैं

129. The basic ideal of a democratic society is :

- (1) frequent criticism of whatever one thinks as wrong
- (2) powerful leadership
- (3) belief in the opinions of the leader
- (4) respect for the enlightened individual

130. Cumulative frequency graph is known as :

- (1) Bar diagram
- (2) Ogive
- (3) Pie-diagram
- (4) Histogram

131. The most important advantage of the true-false test is _____.

- (1) the high diagnostic value
- (2) its elimination of guessing through correction
- (3) its wide sampling
- (4) the validity of its items

132. Which one of the following is often true about mental retardation ?

- (1) Almost all types of physical injuries and trauma may cause mental retardation
- (2) The parents of mentally retarded children are usually mentally retarded
- (3) Chronic infection and diseases of the mother may cause mental retardation in the child
- (4) The children of extremely poor families are bound to be mentally retarded

133. निम्नलिखित में से किस की संप्राप्ति वस्तुनिष्ठ प्रकार के परीक्षण मदों का प्रयोग करने से नहीं की जा सकती है ?

- (1) उच्च कोटि की विश्वसनीयता
- (2) समंकन प्रक्रिया में वस्तुनिष्ठता
- ✓ (3) विषयवस्तु का व्यापक विस्तार
- ✓ (4) समस्या समाधान योग्यता

134. श्रव्य-दृश्य सहायक सामग्री का मुख्य उद्देश्य है :

- (1) जब भी कक्षा बेचैन या कोलाहल पूर्ण लगे, उसे शांत करना
- (2) अधिगम अनुभव के कुछ पक्षों को स्पष्ट करना
- ✓ (3) शाब्दिक उपागम के अति एकांतिक प्रयोग की बजाए विविधता प्रदान करना
- ✓ (4) वास्तविक अधिगम अनुभवों में सार्थक विद्यार्थी सहभागित्व का अवसर देना

135. यदि विद्यालयों ने समाज की अपेक्षाओं पर खरा उतरना है तो नीचे दिए गए कथनों में से तीन कथन ऐसे हैं जिन्हें अध्यापकों को अनिवार्य रूप से करना चाहिए। जो नहीं करना चाहिए वह कौन-सा है ?

- (1) उन्हें चाहिए कि विद्यालयी क्रियाकलाप को सांस्कृतिक प्रतिरूपों से संबंधित करें
- (2) उन्हें चाहिए कि व्यवहार को सामाजिक अन्योन्य क्रिया के लिए निर्देशित करें और उसका रिकार्ड रखें
- ✓ (3) उन्हें चाहिए कि विद्यालय को प्रौढ़ समाज की एक प्रतिकृति का रूप प्रदान करें
- (4) उन्हें विद्यार्थियों की सांस्कृतिक धरोहर को जानना चाहिए

133. Which of the following cannot be achieved by using objective type test items ?

- (1) High degree of reliability
- (2) Objectivity in scoring
- (3) Wide content coverage
- (4) Problem solving ability

134. The primary purpose served by A.V. aids is to :

- (1) quiet down a class whenever it gets restless and noisy
- (2) clarify certain aspects of the learning experience
- (3) provide variety from too exclusive a use of a verbal approach
- (4) permit meaningful student participation in actual learning experiences

135. Three of the following are essential for teachers to do if schools are to fulfil the expectations of the society. Which one is not ?

- (1) They must relate school activities to cultural patterns
- (2) They must record and guide behaviour in social interaction
- (3) They must make the school a replica of adult society
- (4) They must know the cultural heritage of students

136. निम्नलिखित में से किस विधि में निष्कर्ष निकालने के लिए वर्तमान ज्ञान का उपयोग किया जाता है ?

- (1) प्रत्यक्षवाद विधि
- ☒ (2) आगमनात्मक तर्कणा विधि
- (3) निगमनात्मक तर्कणा विधि
- (4) सर्वेक्षण विधि

137. अधिगम को प्रभावशाली होने के लिए यह आवश्यक है कि _____ के रूप में लक्ष्य अर्थ पूर्ण हो।

- (1) विद्यालय की प्रतिष्ठा
- ☒ (2) पाठ्यचर्यात्मक उद्देश्यों
- (3) उसमें सम्मिलित बौद्धिक विचार या धारणाओं
- (4) अध्येता की आवश्यकताओं और प्रयोजनों

138. एन.सी.ई.आर.टी. के विषय में निम्नलिखित में से कौन-सा कथन सही नहीं है ?

- (1) इस का मुख्य सरोकार विद्यालयी शिक्षा की गुणवत्ता में सुधार लाना है
- (2) यह एक सांविधिक संस्था है जिस की स्थापना संसद के अधिनियम द्वारा की गई है
- ☒ (3) यह सोसाइटी पंजीकरण अधिनियम के अंतर्गत पंजीकृत संस्था है
- (4) यह भारत सरकार की एक स्वायत्त संस्था है

136. In which of the following methods the existing knowledge is used to draw conclusions ?

- (1) Positivistic method
- (2) Inductive reasoning method
- (3) Deductive reasoning method
- (4) Survey method

137. For learning to be effective, a goal must be meaningful in terms of :

- (1) The standard of the school.
- (2) The curricular objectives.
- (3) The intellectual ideas involved.
- (4) The learner's needs and purposes.

138. Which of the following is **not** correct about the NCERT ?

- (1) Its main concern is to improve the quality of school education
- (2) It is a statutory body created by the Act of Parliament
- (3) A registered society under Registration of Societies Act
- (4) An autonomous organization under the Govt. of India

139. विद्यालयी पाठ्यचर्या का उद्देश्य होता है :

- ☒ (1) बच्चे को संगठित अर्थपूर्ण शैक्षिक अनुभूतियां प्रदान करना
- (2) शैक्षिक उपलब्धि के मानक स्थापित करना
- (3) भारतीय शिक्षा को एकरूपता प्रदान करना
- (4) बच्चे को एक प्रभावी और अर्थपूर्ण जीवनयापन के लिए अपेक्षित कौशल प्रदान करना

140. किसी परीक्षण की वैधता तथा विश्वस्तता के संबंध में निम्नलिखित में से कौन-सा कथन सर्वाधिक सही है ?

- (1) कोई परीक्षण यदि मानकीकृत नहीं है तो वह विश्वसनीय भी नहीं होगा
- (2) जब तक कोई परीक्षण विश्वसनीय नहीं होगा वह वैध नहीं होगा
- (3) जब तक कोई परीक्षण वस्तुनिष्ठ नहीं होगा, वह वैध नहीं हो सकता
- ☒ (4) यदि कोई परीक्षण वैध नहीं है तो वह विश्वसनीय भी नहीं होगा

141. निम्नलिखित में से कौन-सा अधिक्रम मैसलो द्वारा प्रतिपादित मानव आवश्यकता अधिक्रम का उपयुक्त क्रम है ?

- ☒ (1) शारीरिक, सुरक्षा, स्नेह/अपनापन, स्वाभिमान, स्वानुभूति
- (2) शारीरिक, स्नेह या अपनापन, सुरक्षा, स्वाभिमान, स्वानुभूति
- (3) स्नेह/अपनापन, शारीरिक, स्वाभिमान, सुरक्षा, स्वानुभूति
- (4) स्वाभिमान, शारीरिक, स्नेह/अपनापन, सुरक्षा, स्वानुभूति

139. The curriculum of the school exists for the purpose of :

- (1) providing the child with organised meaningful educative experiences
- (2) setting standards of academic attainments
- (3) providing uniformity in Indian education
- (4) providing the child with skills necessary for effective and meaningful living

140. Which of the following statements concerning the validity and reliability of a test is most accurate ?

- (1) A test cannot be reliable unless it is standardized
- (2) A test cannot be valid unless it is reliable
- (3) A test cannot be valid unless it is objective
- (4) A test cannot be reliable unless it is valid

141. Which one of the following is the proper order of the Maslow's Hierarchy of human needs ?

- (1) physiological, safety, love/belongingness, self-esteem, self-actualization.
- (2) physiological, love or belongingness, safety, self esteem, self-actualization.
- (3) love/belongingness, physiological, self-esteem, safety, self-actualization.
- (4) self-esteem, physiological, love/belongingness, safety, self-actualization.

142. एक विद्यार्थी को व्यक्तिगत रूप से समझने का मूल कारण क्या है ?

- (1) शैक्षिक सिद्धांत और अभ्यास की दृष्टि से स्वयं को अद्यतित किया जा सके
- (2) ताकि उसे समांगी रूप से समझा जा सके और शैक्षिक प्रशासन सुगम बन सके
- (3) ताकि उसकी क्षमताओं को समझने और विकसित करने में सहायता मिल सके और उसकी दुर्बलताओं की पहचान की जा सके
- (4) ताकि यह मालूम हो सके कि उसने कितना और क्या सीखा है, अतः वहीं से अनुदेशन आरंभ किया जा सके

143. शोध अध्ययनों के आधार पर यह स्पष्ट होता है कि बच्चों पर धार्मिक मतों और सिद्धांतों के सिद्धांतारोपण से :

- (1) सामाजिक रूप से अनुमोदित व्यवहार में सार्थक रूप से कमी आई
- (2) उनके सामाजिक रूप से अनुमोदित व्यवहार पर कोई सार्थक प्रभाव नहीं पड़ा
- (3) उनके सामाजिक रूप से अनुमोदित व्यवहार में 60% की वृद्धि हो गई
- (4) अपराधों में प्रबल कमी आई

144. एक अध्यापक का सर्वाधिक महत्वपूर्ण कार्य है :

- (1) कक्षा में व्यवस्था और अनुशासन कायम रखना
- (2) बच्चों के विकास को मार्ग-दर्शित करना
- (3) जहाँ भी आवश्यकता हो उपचारात्मक सहायता प्रदान करना
- (4) प्रभावी अध्यापन करना

142. What is the basic reason for studying the individual pupil ?

- (1) To keep update in respect of educational theory and practice.
- (2) To place him homogeneously, hence facilitate educational administration.
- (3) To help develop the potentialities and identify his weaknesses.
- (4) To find out what one has learned, hence start instruction at that point.

143. Research studies reveal that indoctrinating children in religious creeds and ideology :

- (1) resulted in a significant decrease in socially approved behaviour
- (2) made no significant increase in socially approved behaviour
- (3) resulted in 60% increase in socially approved behaviour
- (4) produced a drastic reduction in crimes

144. The most important function of the teacher is to :

- (1) maintain order and discipline in the class
- (2) guide pupils growth
- (3) provide remedial help wherever needed
- (4) provide effective teaching

145. "निबंधात्मक परीक्षण" की इतनी लोकप्रियता का मुख्य कारण है :

- ☒ (1) इसकी संक्षेपण तथा संगठन कौशल को मापने की योग्यता
- (2) इसकी उच्च वैधता
- (3) इसके उच्च निदानात्मक मूल्य
- (4) इसकी उच्च विश्वसनीयता

146. सृजनात्मक बालकों की पहचान निम्नलिखित में से किस तकनीक से नहीं की जा सकती है ?

- ☒ (1) बुद्धिलब्धि परीक्षण बैटरी
- (2) कुछ प्रेक्षणात्मक तकनीक
- (3) अभिक्षमता परीक्षण
- (4) साक्षात्कार

147. प्रकृति अनुसार शिक्षित करने से अभिप्राय है :

- (1) प्राचीन काल की भाँति आश्रम पद्धति की भाँति प्रकृति की गोद में शैक्षिक संस्थाएं स्थापित करना
- (2) मानव विकास के "प्राकृतिक नियमों" के अनुसार शिक्षित करना
- ☒ (3) प्राकृति नियमों का अध्ययन करना और शैक्षिक प्रक्रिया में उन का उपयोग करना
- (4) जीवन में कृत्रिम की बजाए प्राकृतिक की ओर अभिमुख होना

145. The chief "selling point" of the essay examination is its :

- (1) Ability to measure skill in summarising and organising
- (2) High validity
- (3) High diagnostic value
- (4) High reliability

146. Creative children can not be identified through :

- (1) battery of I.Q. tests
- (2) certain observational techniques
- (3) aptitude tests
- (4) interview

147. To educate according to nature means :

- (1) to set up educational institutions in the lap of nature like the Ashrams in good old days
- (2) to educate according to "natural laws" of human development
- (3) to study natural laws and apply them to the educational process
- (4) to return to the natural as opposed to the artificial in life

148. जब विद्यालयी बच्चे शरारती, विस्फोटक, विद्रोही अथवा भावशून्य हो जाएं तो अध्यापक को सर्वप्रथम, ध्यान देना चाहिए :

- (1) घर और समुदाय को गुप्त रूप से दुर्बल बनाने वाला प्रभाव की ओर
- (2) उसके घर का वातावरण की ओर जहाँ से बच्चा आता है
- (3) निर्धारित कार्य की उपयुक्तता तथा बच्चों से की गई अपेक्षाओं की ओर

✓(4) कक्षा की समाज मित्रीय संरचना की ओर

149. शिक्षा के उद्देश्य निम्नलिखित में से किसमें सहायक नहीं होते ?

- (1) मूल्यांकन उपकरणों को तैयार करने में
- ✓(2) बच्चे के विकास को समझने में
- (3) अनुदेशात्मक सामग्री के चयन में
- (4) अभिगम अनुभवों के निर्माण में

150. व्याख्यान विधि किस स्थिति में सर्वाधिक उपयुक्त विधि होगी ?

- (1) जब विवादास्पद विषयों को पढ़ाना हो
- (2) उपद्रवी कक्षा का ध्यान आकृष्ट करने के लिए
- (3) अभिरुचि के विकास और पाठ्य सामग्री के संपूरक के रूप में

✓(4) जब पाठ्य सामग्री का पूर्ण रूप से प्रतिपादन करना हो

- o o o -

148. When school children become mischievous, explosive, rebellious, or apathetic, the teacher should first look into :

- (1) the undermining influence of home and community
- (2) the atmosphere of the home which the child comes from
- (3) the appropriateness of the work assigned and the demands made on them

(4) the sociometric structure of the class

149. Objectives of education are **not** helpful in :

- (1) preparing evaluation tools
- (2) understanding child development
- (3) selecting instructional material
- (4) designing learning experiences

150. The lecture method would be most appropriate when used to :

- (1) teach controversial topics
- (2) hold the attention of the unruly class
- (3) develop interest and supplement the text
- (4) ensure complete coverage of material

- o o o -